

Спецификация.

Административная контрольная работа за 1 полугодие по географии 7 класса.

Содержание: Источники географических знаний.

Методы географической науки. Современный облик планеты Земля. Главные особенности природы Земли. Материки и страны. Африка.

Работа состоит из 12 заданий, которые разделены на три части.

Часть первая содержит 6 заданий (А 1 – А 6) с выбором одного ответа. Правильно выполненное задание оценивается в 1 балл.

Часть вторая содержит 4 задания (В 1 – В 4). На них следует дать краткий ответ в виде числа, установить соответствие или ответ в виде последовательности букв. В части 2 правильно выполненные задания оцениваются в 2 балла, а частично выполненные оцениваются в 1 балл.

Третья часть содержит 2 задания (С 1, С 2). За выполненные задания части 3 в зависимости от полноты и правильности ответа присваивается до 3 баллов, а частично – 1 балл. Общий максимальный балл за выполнение всего теста – 20 баллов.

Перевод баллов в оценку

Суммарный балл за выполнение работы	Оценка
20 – 17	«5»
16 – 11	«4»
10 – 6	«3»
5 – 0	«2»

Административная контрольная работа по географии за 1 полугодие 7 класс.

1 вариант

А 1. Наибольшую мощность земная кора имеет под

- а. океанами б. равнинами в. горами

А 2. Остров – это...

- а. небольшой участок суши, окруженный со всех сторон водой;
б. группа близко расположенных участков суши;
в. глубоко вдающийся в море участок суши, окруженный с трех сторон водой.

А 3. Какое из следующих утверждений верно?

- а. Мощность океанической земной коры составляет 50 – 70 км;
б. Океаническая земная кора легче материковой;
в. Платформа – это подвижный участок земной коры;
г. Материковая земная кора состоит из осадочного и базальтового слоев.

А 4. На островах, какого океана чаще всего происходят извержения вулканов?

- а. Атлантического в. Северного Ледовитого
б. Индийского г. Тихого

А 5. Какие из перечисленных островов расположены у северо-западного побережья Африки?

- а. Гавайские, в. Фолклендские,
б. Большие Антильские, г. Канарские.

А 6. Какая из перечисленных крайних точек является крайней южной точкой

материка Африка?

- а. мыс Альмади
- б. мыс Игольный
- в. мыс Расхафун
- г. мыс Доброй Надежды

В 1. Расположите слои внутреннего строения Земли, начиная с самого глубокого.

- а. внешнее ядро
- б. мантия
- в. земная кора
- г. внутреннее ядро

Запишите в таблицу **буквы**, соответствующие выбранным ответам

1	2	3	4

В 2. Расставь океаны в порядке уменьшения их площади.

- а. Тихий
- б. Атлантический
- в. Индийский
- г. Северный Ледовитый

Запишите в таблицу **буквы**, соответствующие выбранным ответам

1	2	3	4

В 3. Установите соответствие между элементами береговой линии и их географическим названиями.

Элементы береговой линии

- 1. пролив
- 2. остров
- 3. море
- 4. полуостров

Географические названия

- А. Мозамбикский
- Б. Красное
- В. Мадагаскар
- Г. Аравийский

Запишите в таблицу **буквы**, соответствующие выбранным ответам

1	2	3	4

В 4. Установите соответствие между исследователем и его открытием.

Исследователи:

- 1. М. Бехайм
- 2. Васко да Гама
- 3. Ф. Магеллан
- 4. Аристотель

Открытие:

- А. Доказал шарообразность Земли;
- Б. В XV веке открыл морской путь в Индию;
- В. Создал первый в мире глобус;
- Г. Совершил первое кругосветное плавание в XVI веке.

Запишите в таблицу **буквы**, соответствующие выбранным ответам

1	2	3	4

С 1. Почему соленость вод Гвинейского залива ниже, чем в море Фиджи? Приведите два довода.

С 2. Докажите, что Африка расположена в 4 полушариях: северном и южном, западном и восточном.

Ответы к административной контрольной работе по географии за 1 полугодие 7 класс:

А 1	А 2	А 3	А 4	А 5	А 6	В 1	В 2	В 3	В 4	С 1	С 2
в	а	б	г	г	б	габв	абвг	1а 2в 3б 4г	1в 2б 3г 4а		

С 1.

Элементы содержания верного ответа (допускаются иные формулировки ответа, не искажающие его смысл)	Баллы
1. Гвинейский залив расположен в экваториальных широтах, для которых характерно выпадение большого количества атмосферных осадков. 2. В Гвинейский залив впадают крупные реки, опресняющие воды залива. или Море Фиджи расположено в тропических широтах, для которых характерно нисходящие токи воздуха и малое количество осадков.	3
Указания к оцениванию	
Ответ включает все два названия выше элементов.	3
Ответ включает один из названных выше элементов	1
Все вышеперечисленные элементы отсутствуют.	0

С 2.

Элементы содержания верного ответа (допускаются иные формулировки ответа, не искажающие его смысл)	Баллы
Африку пересекает экватор, делит материк на два полушария северное и южное; Пересекает нулевой меридиан делит на западное и восточное полушария.	3
Указания к оцениванию	
Ответ включает все два названия выше элементов.	3
Ответ включает один из названных выше элементов	1
Все вышеперечисленные элементы отсутствуют.	0

Спецификация

Административная контрольная работа по географии за 2 полугодие 7 класс, включают задания трех уровней сложности: **А, В и С.**

Содержание: Современный облик планеты Земля.

Население Земли.

Главные особенности природы Земли.

Материки и страны.

Природа Земли и человек.

Часть А включает 18 заданий базового уровня. На вопрос предлагаются четыре варианта ответов, из которых верным может быть только один.

Часть В — более сложный уровень. 4 задания, представленные в этой группе, требуют от учащихся более глубоких знаний. Ответом к заданиям этой части является последовательность букв или цифр.

Часть С — уровень повышенной сложности. При выполнении задания требуется применить практические навыки и дать ответ.

Критерии оценивания

За правильный ответ на задания: части А - 1 балл; части В - 2 балла и С - 1 балла.

Перевод баллов в оценку

Оценка по пятибалльной шкале	«2»	«3»	«4»	«5»
Общий балл	0- 13	14-19	20-25	26-29

Административная контрольная работа за 2 полугодие 7 класс.

Вариант 1

ЧАСТЬ А

Часть А содержит 18 заданий с выбором ответа. К каждому заданию даётся четыре варианта ответа, только один из которых верный. При выполнении заданий этой части в бланке ответов № 1 под номером выполняемого вами задания (А1–А18) поставьте знак «х» в клеточке, номер которой соответствует номеру выбранного вами ответа.

А-1. Какой материк пересекается экватором в северной части?

- 1) Северная Америка
- 2) Южная Америка
- 3) Австралия
- 4) Евразия

А-2. Какой из перечисленных путешественников исследовал внутренние районы Африки?

- 1) Д. Ливингстон
- 2) Дж. Кук
- 3) А. Веспуччи
- 4) А. Макензи

А-3. Какой материк Земли самый сухой?

- 1) Евразия
- 2) Австралия
- 3) Африка
- 4) Южная Америка

А-4. Относительно устойчивые и выровненные участки земной коры, лежащие в основании современных материков, - это:

- 1) материковые отмели
- 2) платформы
- 3) сейсмические пояса
- 4) острова

А-5. Какая из перечисленных территорий расположена в пределах сейсмического пояса?

- 1) остров Сахалин
- 2) острова Новая Земля
- 3) полуостров Таймыр
- 4) полуостров Ямал

А-6. Какая из перечисленных горных систем самая протяженная?

- 1) Кордильеры
- 2) Урал
- 3) Альпы
- 4) Аппалачи

А-7. Какой буквой на карте обозначен вулкан Килиманджаро?



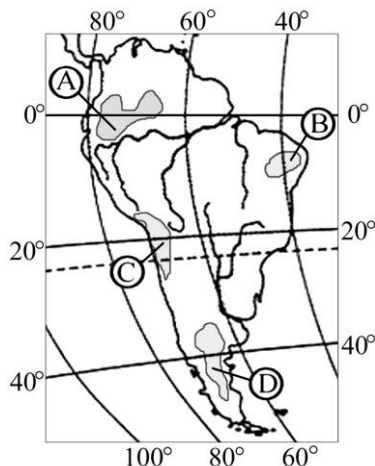
- 1) А 2) Б 3) В 4) Г

А-8. Для какого типа климата умеренного климатического пояса характерны самые низкие зимние температуры?

- 1) морского
- 2) умеренно- континентального
- 3) резко- континентального
- 4) муссонного

А-9. На какой из территорий, обозначенных буквами на карте Южной Америки, среднегодовое количество атмосферных осадков наибольшее?

- 1) А 2) Б 3) В 4) Г



А-10. Какое из перечисленных морских течений действует в Тихом океане?

- 1) Гольфстрим
- 2) Бразильское
- 3) Гвинейское
- 4) Куроисио.

А-11. В умеренном поясе к югу от лесной зоны расположена зона:

- 1) тайги
- 2) лесостепей и степей
- 3) лесотундр и тундр
- 4) высотной поясности

А-12. Соболь - животное, обитающее в природной зоне:

- 1) степей
- 2) тайги
- 3) пустынь
- 4) тундры

А-13. Укажите ошибку в сочетании «материк - животное».

- 1) Африка — гепард
- 2) Австралия — вомбат
- 3) Южная Америка - пума
- 4) Евразия — скунс

А-14. Укажите правильный вариант ответа. В Африке — вади, а в Австралии:

- 1) пуны
- 2) крики
- 3) самум
- 4) коала

А-15. Какие координаты имеет самая восточная точка Африки?

- 1) 16° ю.ш.; 3° в.д.
- 2) 10° с.ш.; 51° в.д.
- 3) 51° с.ш.; 11° в.д.
- 4) 16° с.ш.; 3° з.д.

А-16. По карте плотности населения определите, какая из названных территорий заселена больше?

- 1) Европа;
- 2) Южная Америка;
- 3) Австралия;
- 4) север Африки.

А-17. Родиной какого культурного растения является Африка?

- 1) кофе
- 2) каучуконосов
- 3) какао
- 4) чая

А-18. Одним из основных современных видов хозяйственной деятельности человека в тундре является:

- 1) заготовка леса
- 2) добыча полезных ископаемых
- 3) разведение скота
- 4) выращивание зерна

ЧАСТЬ В

Часть В содержит 4 задания. Задания В-1, В-2 содержат по три правильных ответа. Ответом к заданиям этой части (В-3, В-14) является слово, последовательность букв или цифр. Впишите ответы сначала в текст работы, а затем перенесите их в бланк ответов № 1 справа от номера соответствующего задания, начиная с первой клеточки, без пробелов, запятых и других дополнительных символов. Каждую цифру или букву пишите в отдельной клеточке в соответствии с приведёнными в бланке образцами. Единицы измерения писать не нужно.

В-1. Определите, о какой природной зоне говорится:

«Характерны желтоземные и красноземные почвы. Субтропические вечнозеленые леса и кустарники. Характерные представители животного мира: гепарды, зебры, носороги, слоны».

В-2. Установите соответствие между строением земной коры и рельефом.

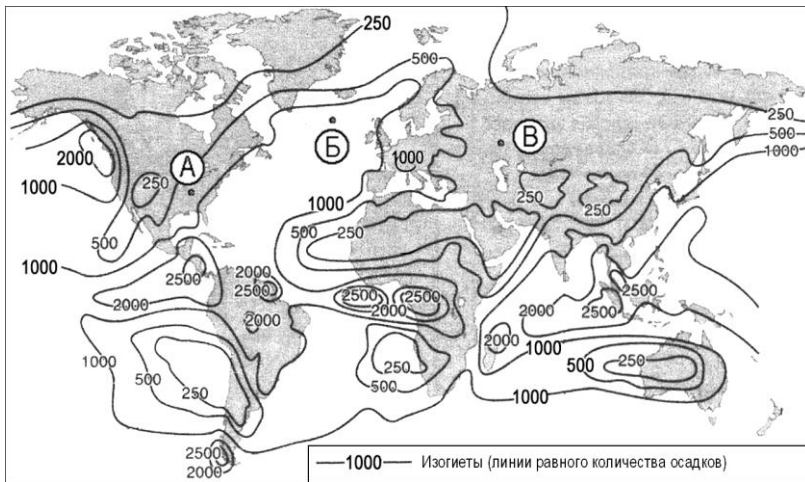
ГОРЫ

ВОЗРАСТ СКЛАДЧАТОСТИ

- 1) Гималаи
- 2) Урал
- 3) Верхоянский хребет

- А. Мезозойский
- Б. Кайнозойский
- В. Герцинский

В-3. С помощью карты сравните среднегодовое количество осадков в точках, обозначенных на карте буквами А, Б, В. Расположите эти точки в порядке увеличения количества осадков, выпадающих в них.

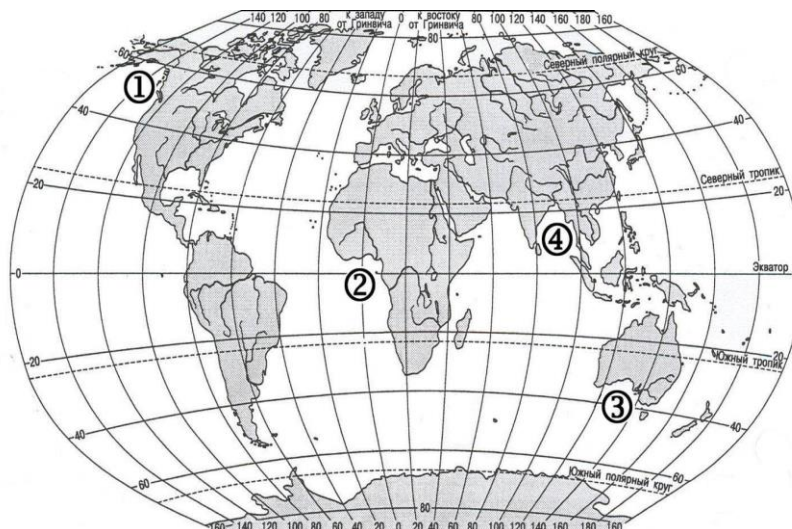


Запишите в таблицу получившуюся последовательность букв.

- А) А
- Б) Б
- В) В

Ответ:

В-4. Установите соответствие между заливом и его расположением на карте, обозначенным цифрой.



ЗАЛИВ**РАСПОЛОЖЕНИЕ НА КАРТЕ**

- | | |
|----------------|------|
| А) Гвинейский | 1) 1 |
| Б) Бенгальский | 2) 2 |
| В) Аляска | 3) 3 |
| | 4) 4 |

Запишите в таблицу цифры, соответствующие выбранным ответам.

Ответ:	А	Б	В

ЧАСТЬ С**Задания С.****С-1. Определите страну по ее краткому описанию.**

Это – одна из крупных по площади стран мира, имеет выход к трем океанам. На её территории находится одна из крайних точек материка, на котором она расположена. По суше граничит лишь с одной страной. Большая часть ее населения расположена вдоль южной границы. Страна богата разнообразными полезными ископаемыми, а также лесными, земельными, водными ресурсами.

Ответы административной контрольной работы по географии для 7 класса (тесты)**Вариант 1****ЧАСТЬ А**

Номер задания	А 1	А 2	А 3	А 4	А 5	А 6	А 7	А 8	А 9	А1 0	А1 1	А1 2	А1 3	А1 4	А1 5	А1 6	А1 7	А1 8
	2	1	2	2	1	1	4	3	1	1	2	2	4	2	2	1	1	2

ЧАСТЬ В

Номер задания	В1	В2	В3	В4
	Саванны и редколесья	1-Б 2-В 3-А	ВАБ	А-2 Б-4 В-1

ЧАСТЬ С

С1 - Канада